



# Erzincan İl Millî Eğitim Müdürlüğü

## (YGS Soru Analizi - Coğrafya)

*"Herkesin İhtiyacı Olan Eğitim"*

[erzincan.meb.gov.tr](http://erzincan.meb.gov.tr)

[f](#) [t](#) \ErzincanMem



20<sup>14</sup>/<sub>24</sub> "Eğitim Şehri Erzincan"

## 2017 YGS Sorusu

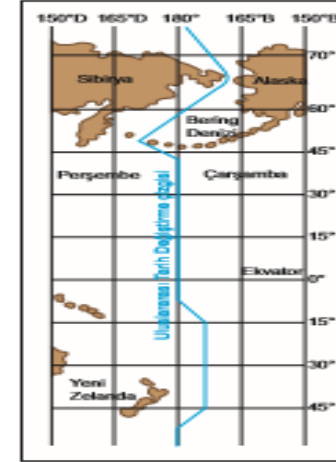
17. +8. saat dilimini kullanan Çin'in Şanghay kentinde bulunan bir grup turist 2017 yılına burada girmiştir. Ziyaret sonrasında grubun uçağı 01.01.2017 tarihinde saat 02.30'da kalkarak -8. saat dilimini kullanan ABD'nin San Francisco kentine 11 saatlik uçuşun ardından inmiştir.

**Buna göre, uçağın indiği anda San Francisco'da geçerli olan tarih ve saat aşağıdakilerin hangisinde doğru olarak verilmiştir?**

- A) 01.01.2017, Saat 13.30
- B) 31.12.2016, Saat 10.30
- C) 01.01.2017, Saat 21.30
- D) 31.12.2016, Saat 13.30
- E) 31.12.2016, Saat 21.30

## M.E.B. Ölçme Değ. Gen Müd. Kazanım Değerlendirme Sınavında Çıkan Soru

- 180° meridyeni olan Tarih Değiştirme Çizgisinin doğusunda yer alan bir ada ülkesinde günlük olarak yayınlanan bir gazetenin sloganı 'Dünya'da Yayınlanan İlk Gazete' şeklindedir.



**Gazetenin bu sloganı atmasının nedeni öncelikle aşağıdakilerden hangisidir?**

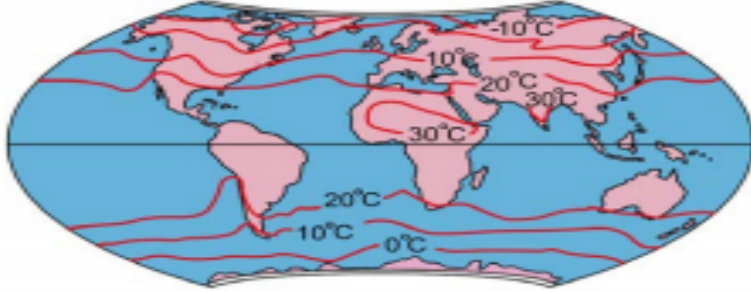
- A) Yeni tarihli günü ilk yaşayan ülke olması
- B) Tarih değiştirme çizgisine yakın olması
- C) Doğu boylamları üzerinde yer alması
- D) Büyük Okyanus içerisinde yer alması
- E) Ülkenin doğusu ile batısı arasında ki mesafenin az olması

KAZANIM TESTİ -3



## 2017 YGS Sorusu

16. Aşağıdaki haritada yeryüzüne ait yıllık ortalama sıcaklık dağılışı gösterilmiştir.

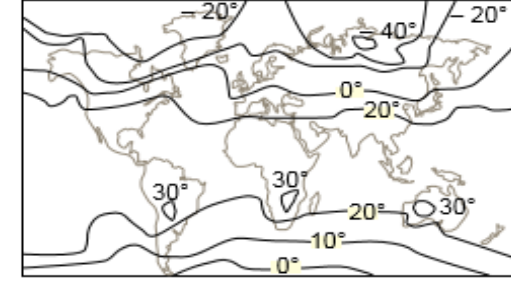


Buna göre; Güney Yarım Küre'de yer alan 20 °C izotermünün, Güney Amerika Kıtası'nın batısında Ekvatora doğru uzanmasının temel nedeni aşağıdakilerden hangisidir?

- A) Sıcaklıkların ocak ayında güneye doğru azalması
- B) Peru soğuk su akıntısının soğutucu etkisi
- C) Dinamik yüksek basınç alanının kuzeye yönelmesi
- D) Alize rüzgârlarının karşılaşma alanına yakın olması
- E) Güney Yarım Küre'de kutup rüzgârlarının temmuz ayında daha etkili olması

## M.E.B. Ölçme Değ. Gen Müd. Kazanım Değerlendirme Sınavında Çıkan Soru

4. Aşağıda Dünya ocak ayı ortalama sıcaklık dağılışı gösterilmiştir.



Harita incelendiğinde aşağıda verilenlerin hangisine ulaşamaz?

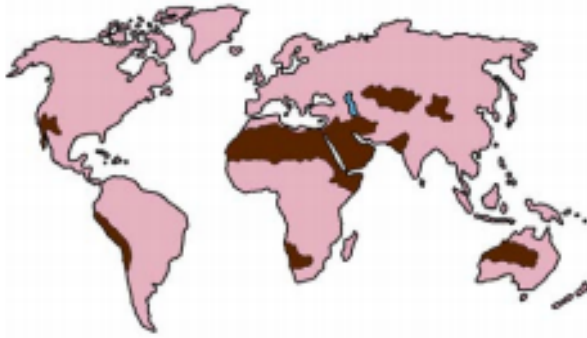
- A) En düşük ve en yüksek sıcaklıklara büyük kara parçalarının iç kısımlarında rastlanmaktadır.
- B) En yüksek sıcaklıklara Güney Yarım Küre'de Oğlak Dönencesi çevresinde rastlanmaktadır.
- C) Sıcaklık ortalamalarının bu şekilde olmasında Dünya'nın yıllık hareketinin etkisi yoktur.
- D) Haritaya bakıldığında okyanus akıntılarının sıcaklık üzerinde etkili olduğu görülmektedir.
- E) -40 °C'nin altında sıcaklıklar görülmektedir.

KAZANIM TESTİ 9



## 2017 YGS Sorusu

25. Aşağıdaki haritada bazı alanlar koyu renkle gösterilmiştir.



Bu alanların tümü aşağıdaki hangi bölge sınıfı içerisinde yer alır?

- A) Çöl bölgesi
- B) Ekvatorial iklim bölgesi
- C) Petrol üretim bölgesi
- D) Platolar bölgesi
- E) Akdeniz iklimi bölgesi

## M.E.B. Ölçme Değ. Gen Müd. Kazanım Değerlendirme Sınavında Çıkan Soru

2. Toprağı oluşturan minerallerin kimyasal yapılarında bir değişme olmadan fiziksel olarak daha küçük parçalara ayrılmasına fiziksel ayrışma denilmektedir. Fiziksel ayrışma günlük ve yıllık sıcaklık farkının fazla olduğu yerlerde daha etkili bir kuvvettir.

Buna göre:



haritada işaretlenen bölgelerin hangi ikisinde fiziksel ayrışmanın daha hızlı olması beklenir?

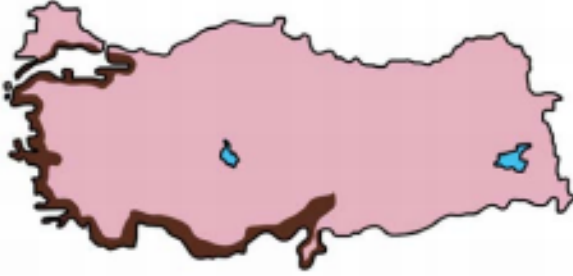
- A) I ve II
- B) I ve III
- C) II ve III
- D) I ve IV
- E) III ve IV

KAZANIM TESTİ 26



## 2017 YGS Sorusu

22. Aşağıdaki haritada maki bitki örtüsünün Türkiye'deki dağılışı koyu renkle gösterilmiştir.



Belirtilen alanların coğrafi özellikleri dikkate alındığında, bu bitki örtüsünün yetişme koşullarıyla ilgili olarak aşağıdakilerden hangisi kesinlikle doğrudur?

- A) Özellikle yaz aylarında bol yağış istemektedir.
- B) Don olaylarının görüldüğü yerlerde yetişmemektedir.
- C) Akdeniz iklim koşullarının etkili olduğu alanlarda yetişmektedir.
- D) Sadece terra-rossa topraklarda yetişmektedir.
- E) Yükseltinin 500 m'yi geçtiği yerlerde yetişmemektedir.

## M.E.B. Ölçme Değ. Gen Müd. Kazanım Değerlendirme Sınavında Çıkan Soru

10. Maki formasyonu, Akdeniz ikliminin hâkim olduğu sahalarda orman örtüsünün tahribi sonucunda gelişen, 3-5 m yüksekliğinde, daimi yeşil yapraklı türlerden oluşan bitki formasyonudur.

Bu bilgiye bakılarak maki bitki örtüsü ve bu bitki örtüsünün geliştiği yerler hakkında aşağıdakilerden hangisi söylenemez?

- A) Yazları sıcak ve kurak geçmektedir.
- B) En fazla yağış kış mevsiminde oluşur.
- C) Makilerden tomruk üretimi yapılamamaktadır.
- D) Makilerin oluşmasında beşeri etmenler etkili olmuştur.
- E) Makiler, yıllık sıcaklık ortalamasının yaklaşık  $-10\text{ C}^\circ$  olduğu yerlerde gelişebilirler.

KAZANIM TESTİ 22



## 2017 YGS Sorusu

## M.E.B. Ölçme Değ. Gen Müd. Kazanım Değerlendirme Sınavında Çıkan Soru

24. Aşağıdakilerden hangisi Türkiye nüfusunun 1927 yılından günümüze kadar geçirdiği değişimlerden biri değildir?

- A) Nüfus artışı genelde devam etmiştir.
- B) Kentsel nüfus oranı artmıştır.
- C) Nüfusun eğitim düzeyi yükselmiştir.
- D) Kırsal nüfus oranı artmıştır.
- E) Ortalama yaşam süresi uzamıştır.

YGS 2017



## 2017 YGS Sorusu

27.

- I. Şiddetli fırtınalar
- II. Ay'ın çekim gücü
- III. Okyanus tabanı depremleri
- IV. Deniz altı volkanizması

Yukarıdakilerden hangileri tsunamilerin oluşumunda etkilidir?

- A) I ve II      B) I ve III      C) II ve III  
D) II ve IV      E) III ve IV

## M.E.B. Ölçme Değ. Gen Müd. Kazanım Değerlendirme Sınavında Çıkan Soru

8. Yer kabuğunda meydana gelen sarsıntılara deprem adı verilir.

**Bu sarsıntılara,**

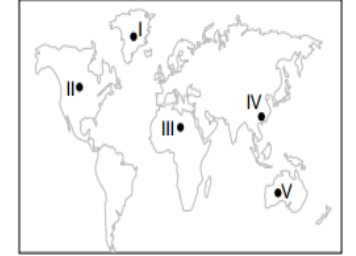
- I. yer kabuğunda meydana gelen boşlukların tavan kısmının çökmesi,
- II. şiddetli volkanik patlamaların yaşanması,
- III. kayaçların çözünmesi

verilenlerden hangileri neden olmaktadır?

- A) Yalnız I      B) Yalnız II      C) I ve II  
D) II ve III      E) I, II ve III

9. Okyanus tabanlarında meydana gelen depremler büyük dalga hareketlerine neden olmaktadır. Bu dalgalar kıyıya ulaştığında yıkıcı etkiler yapmaktadır. Bu olaya tsunami adı verilir.

**Bu olayın görülme ihtimali;**



haritada işaretlenen yerlerin hangisinde daha fazladır?

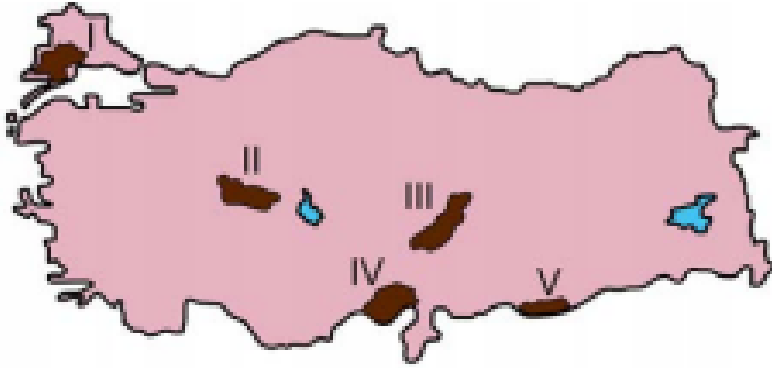
- A)      B) II      C) III      D) IV      E) V

KAZANIM TESTİ 13



## 2017 YGS Sorusu

23. Aşağıdaki haritada bazı alanlar numaralandırılarak koyu renkle gösterilmiştir.



Bu alanların hangisinde engebellik daha fazladır?

- A) I      B) II      C) III      D) IV      E) V

## M.E.B. Ölçme Değ. Gen Müd. Kazanım Değerlendirme Sınavında Çıkan Soru

10. Aşağıda verilen harita üzerinde bazı volkanik dağlar gösterilmiştir.



Harita incelendiğinde volkanik dağ kütlelerinin bir sıra halinde dizildiğini söyleyebiliriz.

**Bu durumun nedeni olarak:**

- I. volkanizma faaliyetlerinin bir fay hattı boyunca oluşması,
- II. verilen dağların Karasal İklim Bölgesi içerisinde bulunması,
- III. verilen dağların geniş bir göl alanı çevresinde bulunması

**verilenlerden hangileri gösterilir?**

- A) Yalnız I      B) Yalnız II      C) I ve II  
D) I ve III      E) II ve III

KAZANIM TESTİ 31







# TEŞEKKÜRLER



20<sup>14</sup>/<sub>24</sub> "Eğitim Şehri Erzurum"

"Herkesin İhtiyacı Olan Eğitim"